




Dit navn: _____

Notér følgende toner med løse fortegn:

d bes dis a es

1



Notér samme tone med et andet fortegn:

Notér følgende skalaer:

E dur

G lydisk

2




Bestem følgende fire intervaller:

3




Bestem følgende to skalaer: (vær opmærksom på F-nøgle)

4



Skriv becifringer på følgende akkorder: (vær opmærksom på F-nøgle)

5




Notér becifringerne med noder:

D \flat Δ

Ao⁷

E \emptyset

6



4-stemmig akkordlægning og stemmeføring. Notér de to manglende stemmer mellem de to angivne:

7

